



INVESTICE DO ROZVOJE VZDĚLÁVÁNÍ

Spočítej geometrické tvary v obrázcích

VY_42_INOVACE_52

VZDĚLÁVACÍ OBLAST: Matematika a její aplikace

VZDĚLÁVACÍ OBOR: Matematika

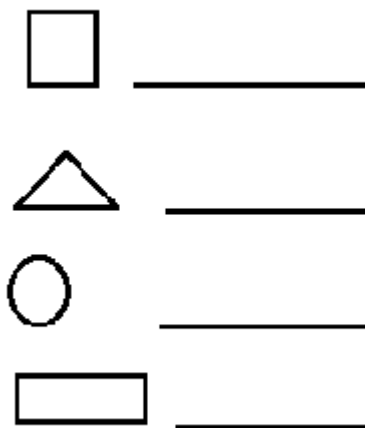
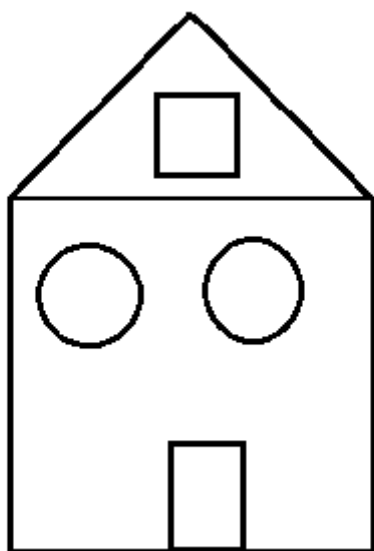
ROČNÍK: První

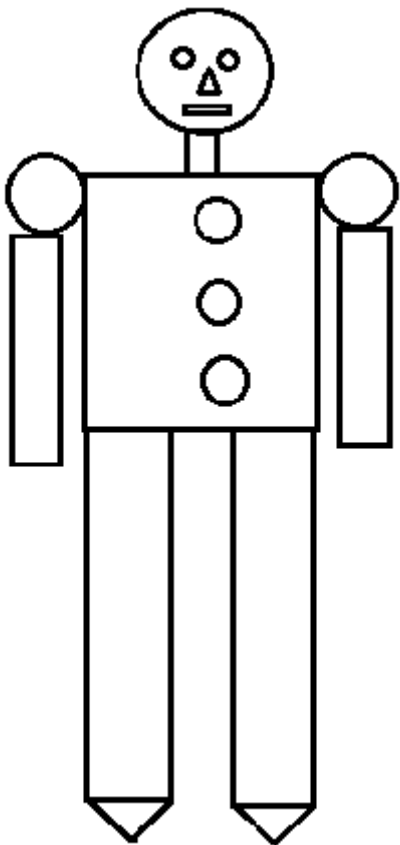
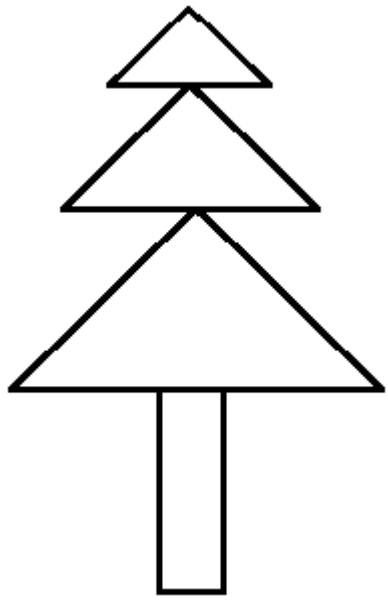
Pracovní list z geometrie

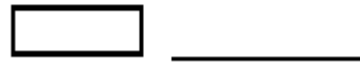

Hledej a počítej tvary

Spočítej, kolik má každý obrázek trojúhelníků, čtverců, obdélníků, kruhů a napiš číslicí na řádky vedle obrázků

Můžeš si vybarvit v obrázcích stejné tvary stejnou pastelkou







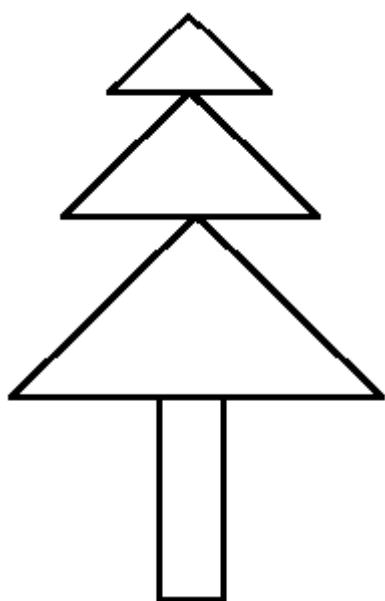
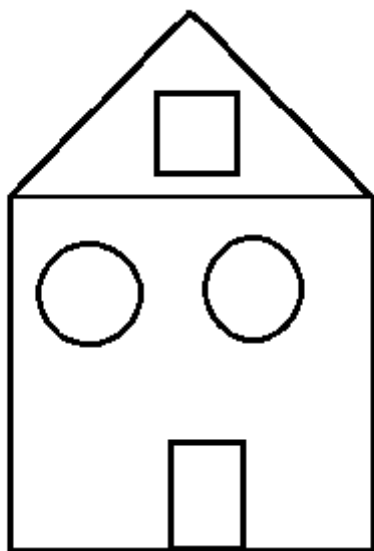
ŘEŠENÍ:

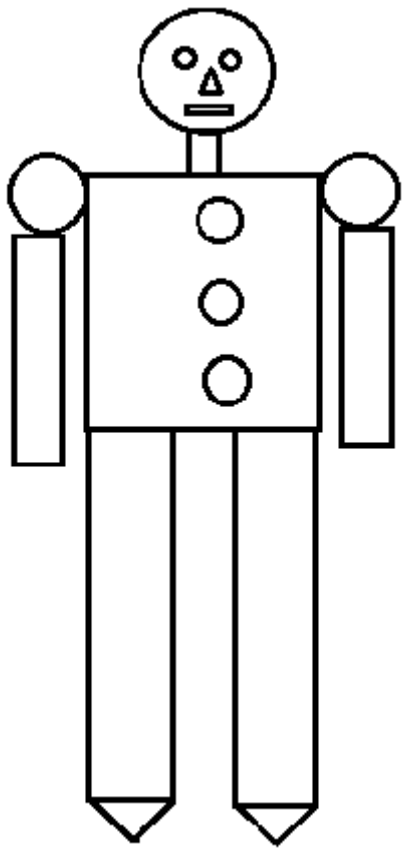
Pracovní list z geometrie


Hledej a počítej tvary

Spočítej, kolik má každý obrázek trojúhelníků, čtverců, obdélníků, kruhů a napiš číslicí na řádky vedle obrázků


Můžeš si vybarvit v obrázcích stejné tvary stejnou pastelkou







 0

 3


 8

 7



 0

 2

 2

 1

Autor: Věra Ptáčková

Období vytvoření VM: 22.3. 2012

Ročník: 1.

Vzdělávací oblast: Základní vzdělávání, 1.stupeň-1.období

Vzdělávací obor: Geometrie v rovině a prostoru

Téma: Geometrické tvary

Klíčová slova: Čtverec, kruh, trojúhelník, obdélník

Anotace: Žáci pojmenovávají geometrické tvary, počítají stejné tvary a zapisují na řádky vedle obrázku.