


INVESTICE DO ROZVOJE VZDĚLÁVÁNÍ

# KOLEM BŘEHŮ AFRIKY



VY\_52\_INOVACE\_121  
Vzdělávací oblast: Člověk a příroda  
Vzdělávací obor: Zeměpis  
Ročník: 6.



Urči polohu Afriky na planetě.

Doplň názvy ostatních světadílů a urči, na kterou světovou stranu od Afriky leží.



1. Pokus se obeplout Afriku „ prstem po mapě „, bylo to vždy možné?
2. Kterými oceány a moři proplouváte, objevili jste nějaké ostrovy a souostroví, pluli jste kolem nějakého poloostrova?
3. Jak se jmenuje největší africký ostrov, dokážeš odhadnout, jak vznikl?



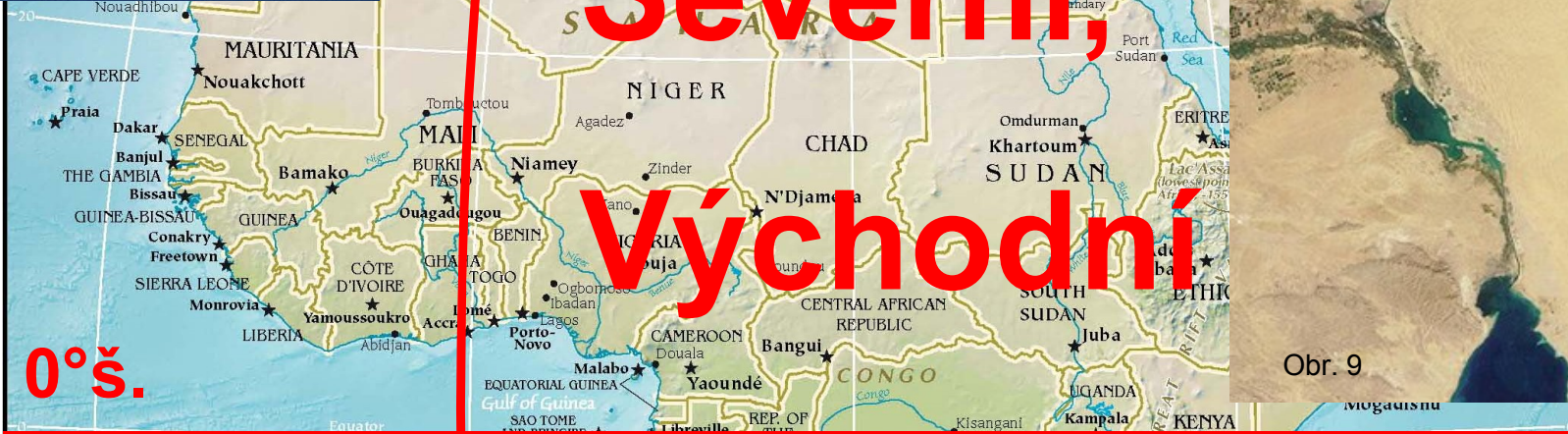
Obr. 6



14 km



# Severní, Východní



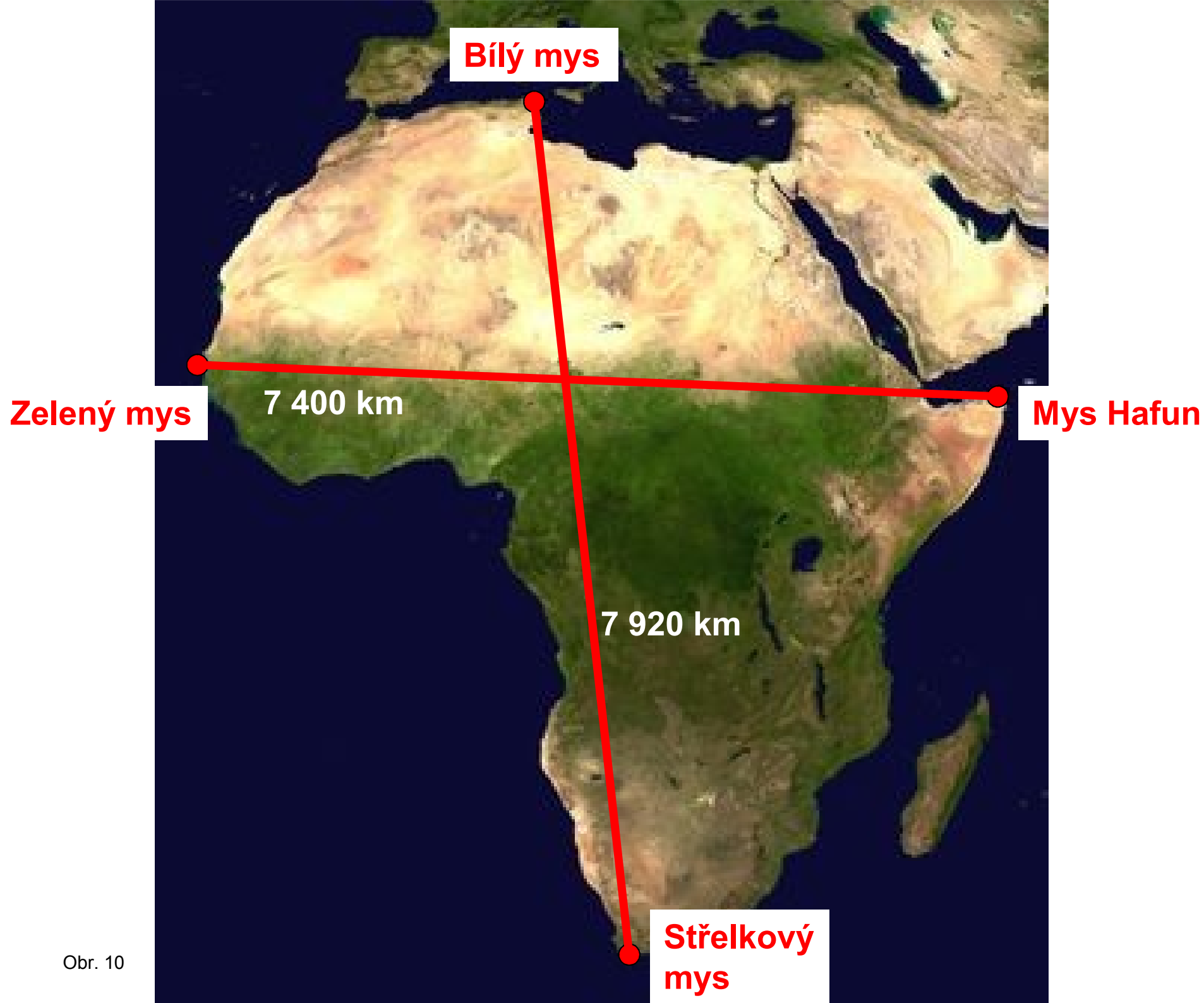
ATLANTSKÝ  
OCEÁN

INDICKÝ  
OCEÁN



Obr. 7

Scale 1:51,400,000  
Azimuthal Equal-Area Projection



Obr. 10

## Zdroje:

Obr. 1: Autor: D.Disdero, licence Creative Commons, BY–SA, [http://cs.wikipedia.org/wiki/Soubor:Elephants\\_Kili\\_2.jpg](http://cs.wikipedia.org/wiki/Soubor:Elephants_Kili_2.jpg)

Obr. 2: Autor: Profesorr X, licence Public domain, <http://cs.wikipedia.org/wiki/Soubor:Tarangire-Natpark800600.jpg>

Obr. 3: Autor: Steve F-E-Cameron , licence Creative Commons, BY–SA , <http://cs.wikipedia.org/wiki/Soubor:Tarangire-Natpark800600.jpg>

Obr. 4: Autor: Damiano Luchetti, licence Public domain, [http://cs.wikipedia.org/wiki/Soubor:Victoria\\_lake.JPG](http://cs.wikipedia.org/wiki/Soubor:Victoria_lake.JPG)

Obr. 5: Autor: Rex, licence Public domain, <http://commons.wikimedia.org/wiki/File:LocationAfrica.png>

Obr. 6: [http://www.d-maps.com/carte.php?lib=africa\\_map&num\\_car=25459&lang=en](http://www.d-maps.com/carte.php?lib=africa_map&num_car=25459&lang=en)

Obr. 7: Autor. Hoshie, Public domain, <http://commons.wikimedia.org/wiki/File:AfricaCIA-HiRes.jpg?uselang=cs>

Obr. 8. Autor. Original uploader was [Xmort](#) at [cs.wikipedia](http://cs.wikipedia), Public domain, <http://commons.wikimedia.org/wiki/File:Gibuzina3.jpg?uselang=cs>

Obr. 9: Autor: David.Monniaux, Public domain, <http://commons.wikimedia.org/wiki/File:SuezCanal-EO.JPG?uselang=cs>

Obr. 10: Autor: NASA, Public domain, [http://commons.wikimedia.org/wiki/File:Africa\\_satellite\\_plane.jpg?uselang=cs](http://commons.wikimedia.org/wiki/File:Africa_satellite_plane.jpg?uselang=cs)

Projekt EU peníze školám Operačního programu  
Vzdělávání pro konkurenceschopnost

## **Metodický list**

Název materiálu: **Kolem břehů Afriky.**

Druh materiálu: prezentace v Power Pointu

Anotace : Prezentace je určena jako obrazová podpora k výkladu o poloze Afriky na zeměkouli. Žáci se seznámí s polohou Afriky vzhledem k okolním světadílům.

Očekávané výstupy: žák dokáže ukázat na mapě světa Afriku, určí polohu vzhledem k ostatním světadílům, seznámí se s okolními moři, oceány ... .

Klíčová slova: Afrika, Atlantský o., Indický o., Madagaskar, Somálský pol. ...

Autor: Mgr. Milena Svobodová

ZŠ Žďár nad Sázavou, Palachova 2189/35, příspěvková organizace

Datum: 2.3.2012

Určeno pro: 6. ročník základní školy

Vzdělávací oblast: Člověk a příroda

Vzdělávací obor: Zeměpis

Tématický okruh: Afrika